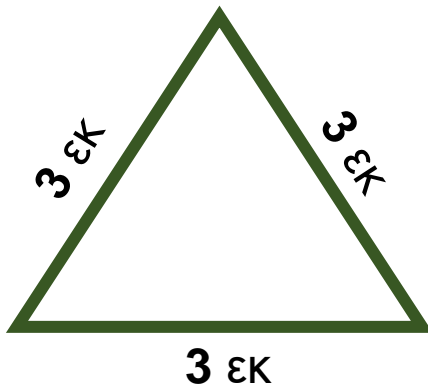
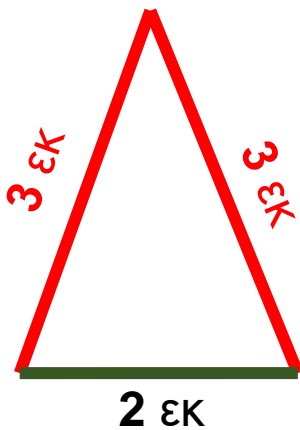


41. Είδη τριγώνων ως προς τις πλευρές



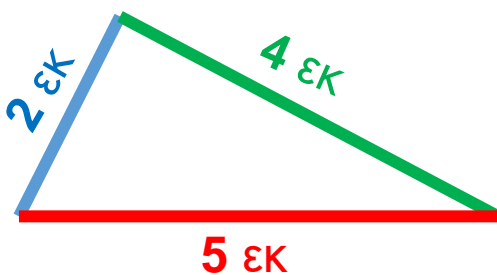
ισόπλευρο

Έχει **όλες** τις πλευρές **ίσες**.



ισοσκελές

Έχει **2** πλευρές **ίσες**.

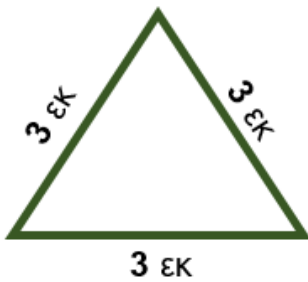


σκαληνό

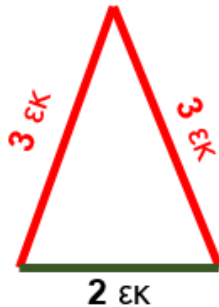
Έχει **όλες** τις πλευρές **άνισες**.

Ας θυμηθούμε...

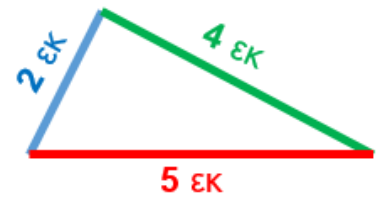
Ως προς τις πλευρές



ισόπλευρο

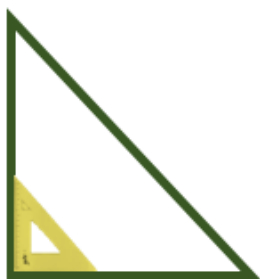


ισοσκελές

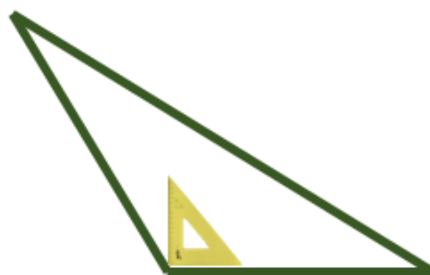


σκαληνό


Ως προς τις γωνίες



ορθογώνιο



αμβλυγώνιο



οξυγώνιο