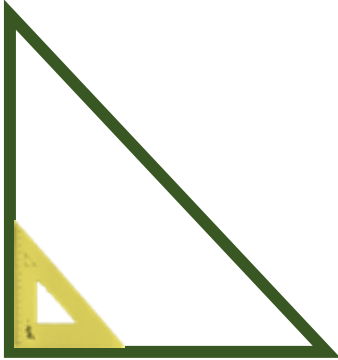
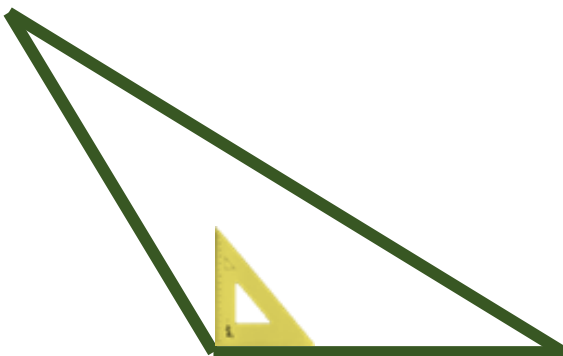


40. Είδη τριγώνων ως προς τις γωνίες



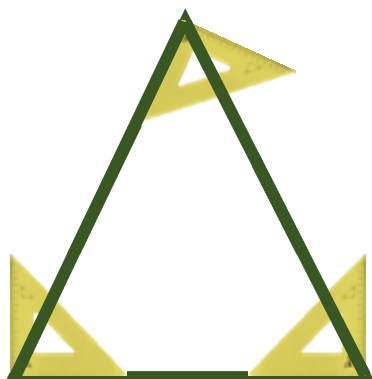
ορθογώνιο

Το τρίγωνο που έχει
μια **ορθή γωνία**.



αμβλυγώνιο

Το τρίγωνο που έχει
μια **αμβλεία γωνία**.



οξυγώνιο

Το τρίγωνο που έχει
3 **οξείες γωνίες**.

 Άσκηση:

Με τη βοήθεια του γνώμονα, να κυκλώσεις:

- Με κόκκινο τα **ορθογώνια** τρίγωνα
- Με μπλε τα **αμβλυγώνια** τρίγωνα
- Με πράσινο τα **οξυγώνια** τρίγωνα

