



Ενότητα 7: ΦΩΣ


3. Φως και σκιές

Όταν το φως συναντήσει ένα **αδιαφανές σώμα**, τότε **πίσω** του δημιουργείται μια **μαύρη περιοχή**, η **σκιά**.





Το φλιτζάνι έχει **2 σκιές**, γιατί φωτίζεται από **2 φακούς**.



Ο ποδοσφαιριστής έχει **4 σκιές**, γιατί φωτίζεται από τους **4 προβολείς**.

Όσο πιο **κοντά** βάλουμε το φως στο αντικείμενο, τόσο **μεγαλώνει** και η σκιά.

